


Leto 1848 – revolucija 1848 (V ZVEZEK!)

1. Vzroki za revolucijo 1848

Predmarčna doba je obdobje _____.

Razmere v predmarčni dobi:



Vir B: Cenzurirana Prešernova Zdravljica



Vir A: Klub mislečih, dvajseta leta 19. stoletja

- Kateri dve značilnosti predmarčne dobe prikazujeta vira B in A?

- Kako deluje sveta aliansa? _____

- Za kaj si prizadevajo vladarji? _____

- Kaj zahteva meščanstvo? _____

- Nove idejne predstave o družbi v 19. st.

Ustvari miselni vzorec teh 3 idejnih predstav s pomočjo tabele.

Konservativizem (pripadniki: konservativci)	<ul style="list-style-type: none">• Zavzema se za ohranjanje obstoječega stanja in nasprotuje novostim, še posebej hitrim spremembam, ki povzročajo negotovost v družbi in gospodarstvu.• Na začetku 19. stoletja se je zavzemal za ohranitev monarhije, privilegijev cerkva in plemstva, nasprotoval pa je revolucionarnim idejam francoske revolucije.• Konservativne ideje so najprej podpirali plemstvo in cerkve (katoliška in luteranske), proti koncu 19. stoletja pa so bili njihovi podporniki tudi kmetje in nižje meščanstvo.• Konservativizem je bila prevladujoča miselnost v Evropi.
Liberalizem (pripadniki: liberalci)	<ul style="list-style-type: none">• Poudarjal je človekovo svobodo, strpnost in delitev oblasti kot temelje demokracije, ločitev Cerkve od države. Podpiral je kapitalistično gospodarstvo in svobodno trgovanje. Idealno ureditev države so liberalci videli v parlamentarni vladavini, v kateri so poslanci v parlamentu odgovorni volivcem.• Liberalizem je podpiralo visoko in srednje meščanstvo.• Bil je močan v Veliki Britaniji, Franciji in na Nizozemskem, uveljavljal se je tudi v nekaterih italijanskih in nemških deželah.
Socializem (pripadniki: socialisti)	<ul style="list-style-type: none">• Bil je nasprotnik kapitalizma. Njegovi cilji so bili družba enakih in solidarnih ljudi, razdelitev dobrin in podreditev skupnemu dobremu. Za socialiste je bilo značilno podpiranje reform v prid delavcev in zavzemanje za pravice žensk.• Socializem je imel podporo med delavstvom in posameznimi izobraženci po vsej Evropi.

2. Leto 1848

Kakšne razmere prikazuje karikatura v učb. na str. 91 desno spodaj? Opiši karikaturu!

1820-1830 – čas številnih vstaj in poskusov revolucij (Francija, Španija, Italija, Belgija ...)

Leto 1848 – glavni val revolucij

A) Meščanska revolucija

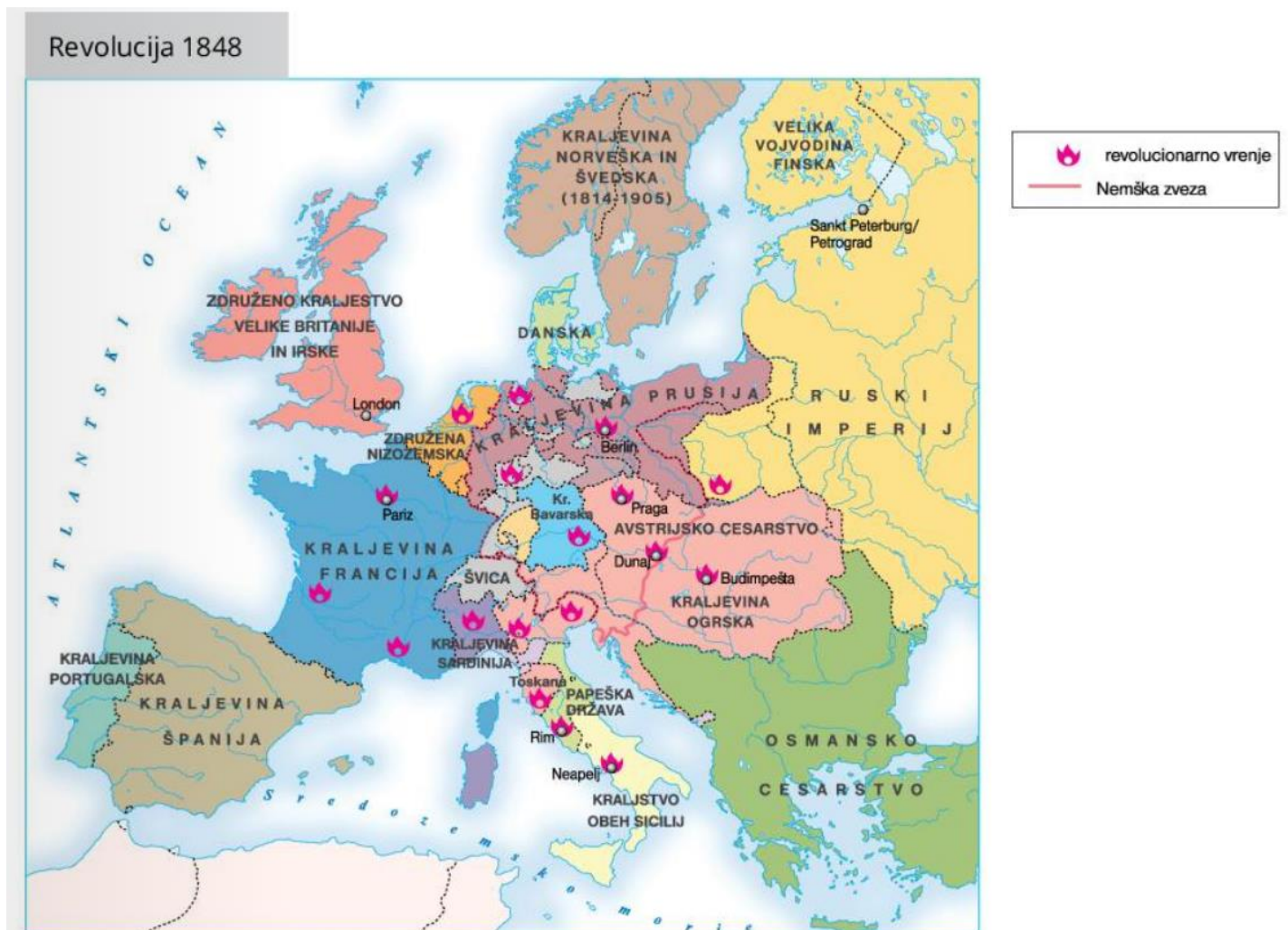
Vzroki:

-

-

Potek revolucije 1848:

- V kateri državi se začne in zakaj?
- S pomočjo zemljevida navedi države, v katerih so bila žarišča revolucije 1848.



Zakaj se revolucija imenuje tudi meščanska revolucija? _____

I. Revolucija '48 v Avstrijskem cesarstvu

- Kdaj in kdo jo začne? _____

Izpolni tabelo (besedilo v učb. 92)

Zahteve prebivalstva:

Delavci	Meščanstvo	Kmetje

Dosežki:

-
-
-
-

- Ali je bila uspešna? _____
- Kateri družbena skupina je bila najbolj uspešna? Odgovor utemelji. _____

B) Pomlad narodov

Pomlad narodov je _____.

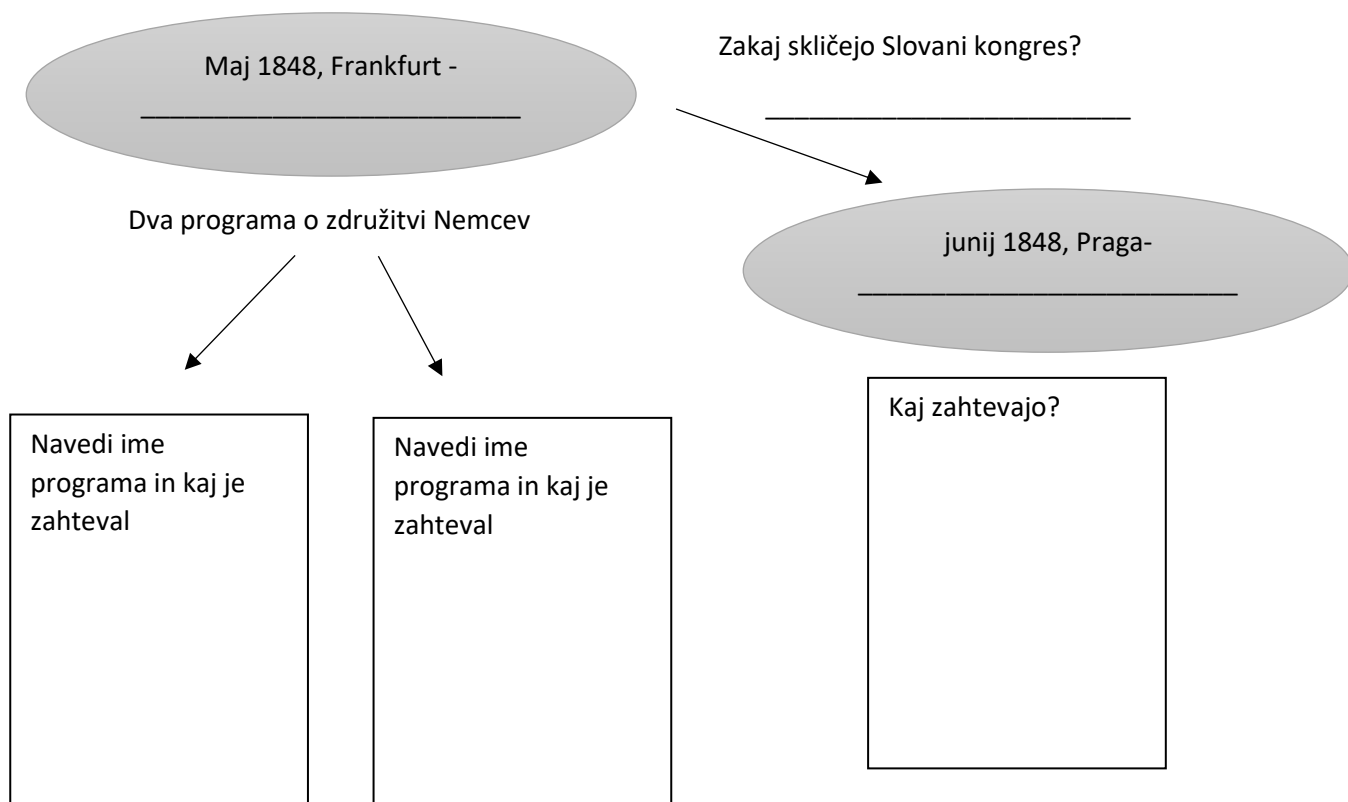
Kaj pomeni narodno prebujenje? _____

Kateri narodi so se prebudili in zakaj? _____

Na podlagi tabele v učb. na str. 93 izpolni tabelo v alinejah:

Delitev narodov glede na cilje:	Lastna država	Samostojnost ali _____ znotraj neke države
Narod		
Zahteve		
Dogajanje in uspešnost		

Dve pomembni zasedanji:



Zakaj se je razvil nacionalizem in kaj ta pojem pomeni? _____

3. KONEC REVOLUCIJ 1848

Posledice in pomen:

zmaga konservativizma

-
-
-
-
-
-
-

napredek

- +
- +
- +
- +
- +
- +
- +

Kaj meniš, zakaj je leto 1848 pomembno?