

Geografija 7. a, b ČETRTEI TEDEEN: ponedeljek, 6. 4. 2020

Priprava na delo:

računalnik, zvezek, Samostojni delovni zvezek str. 110 – 112, iRokus Samostojni delovni zvezek na istih straneh, Atlas Azija –površje in Azija padavine, temperature.

Ponovi ob zemljevidu Azije:

- Lega, površje – učenje prejšnjih dveh ur.
- Še enkrat preveri po rešitvah svoje zapise v delovnem zvezku in zvezku
- Uporabi INTERAKTIVNE-VAJE.SI, KLIK na Azija, klik na Reliefne enote, reke in morja
https://interaktivne-vaje.si/02_osnova/predmeti_meni/geografija_meni.html

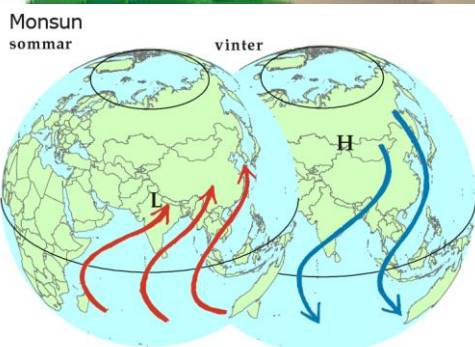
Novo učenje:

Naslov v zvezek: **PODNEBJE AZIJE**

1. Preberi besedilo, Kaj vpliva na podnebje Azije?

Zapis v zvezek.

Na podnebje Azije vplivajo: ustrezno pripiši, kaj predstavlja slika:



• vetrovi monsuni

2. Oglej si posnetek v iRokus Samostojni delovni zvezek str. 107: Puščave

Zapis v zvezek.

- Koliko površja Zemlje prikrivajo puščave?
- Kaj je značilno za območja puščav?
- Imenuj štiri predele puščav na Zemlji! Kako nastanejo? Dopolni tabelo.

Predeli – območja na Zemlji	Kako nastanejo
Blizu ekvatorja v Subtropskem pasu ob severnem povratniku: Sahara, Arabska puščava na Arabskem polotoku	
Osrčje padavin, notranjost Azije: Puščava Gobi	
Atacama v Čilu v Južni Ameriki	
Hladna polarna območja - Antarktika	

- V modrem krogu na str. 107 v DZ imaš zapisana imena azijskih puščav.

Poišči jih na zemljevidu Azije in jih ustrezno vpiši v spodnji zemljevid. Če nimaš možnosti tiskanja, jih zapiši v zvezek, vendar je zelo pomembno, da jih znaš pokazati na zemljevidu.

Območja puščav na svet.



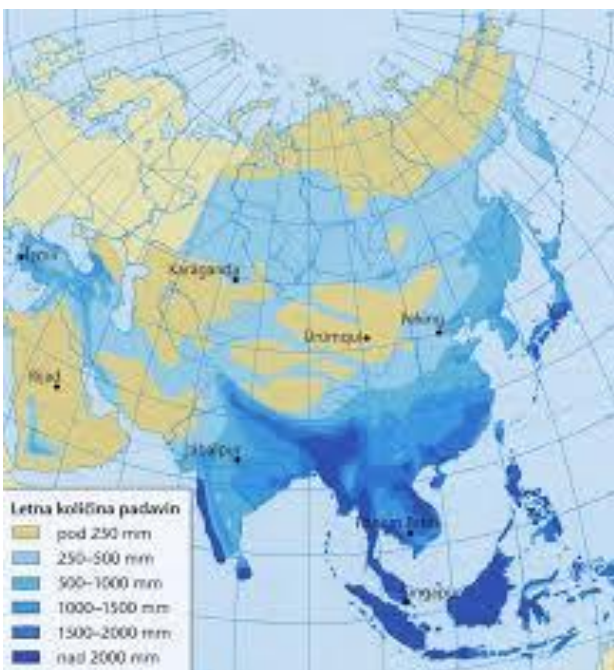
Vir: [https://www.google.com/search?q=Pu%C5%A1%C4%8Dave&rlz\(3.4.2020](https://www.google.com/search?q=Pu%C5%A1%C4%8Dave&rlz(3.4.2020)

3. Oglej si posnetek v iRokus Samostojni delovni zvezek str. 110: Dež - padavine

- Katere vrste dežja poznamo in kako nastane? Dopolni tabelo. Ali zapis v zvezek.

Vrste dežja - padavin	Značilnosti nastanka
KONVEKCIJSKE PADAVINE	-
CIKLONSKÉ PADAVINE	-
OROGRAFSKE PADAVINE	-

Padavine Azije



- V Atlasu najdi zemljevid Padavine Azije in določi območja, kje v Aziji pade največ padavin in pripiši dejavnik, ki vpliva na padavine. Zapis v zvezek.

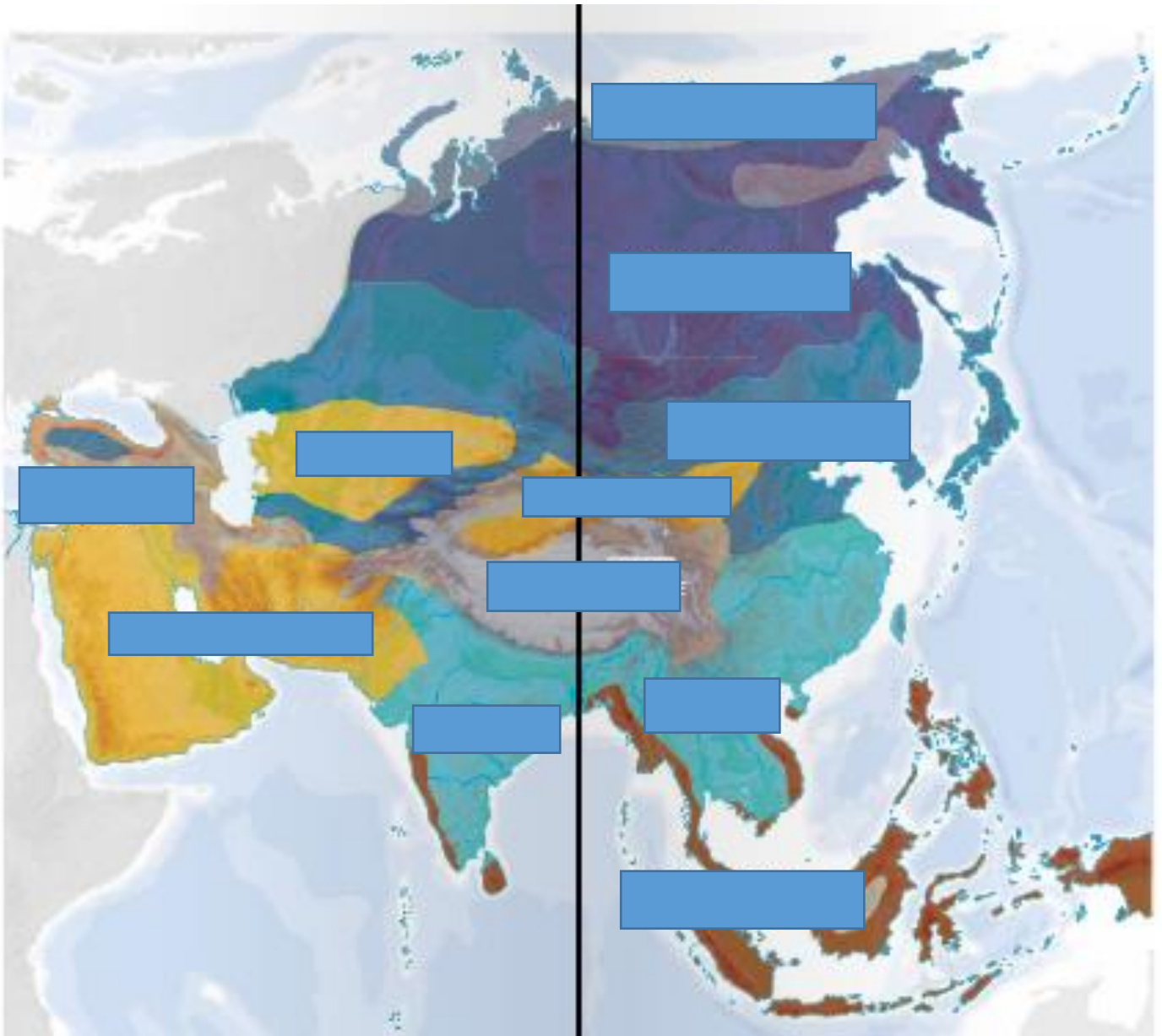
območje	dejavnik
Indonezijsko otočje	
Indijski polotok Indokitajski polotok Filipinsko otočje Japonsko otočje	
Himalaja	

Vir: (Prirejeno po: Senegačnik, J., 2004: Svet, geografija za 2. letnik gimnazij, str. 11. Modrijan. Ljubljana)

4. Preberi si besedila o tipih podnebnij v Aziji in analiziraj zemljevid v samostojnem delovnem zvezku str. 110 – 111.

- Na zemljevid Podnebja Azije na ustrezna mesta vpiši tip podnebja. Če ne moreš natisniti lista, v zvezek zapiši tipe podnebnij in območja, kje v Aziji so določena podnebja.

TIP PODNEBJA	OBMOČJE
EKVATORIALNO PODNEBJE	Indonezijsko in Filipinsko otočje, obale Indokitajskega polotoka in obale zahodne Indije



Vir: Raziskujem stari svet 7, Samostojni delovni zvezek, Rokus.

5. Analiziraj klimograme. K zapisu značilnosti podnebja pripiši tip podnebja in kraj poišči na zemljevidu. Pomagaj si z Google map. Prepis v zvezek.

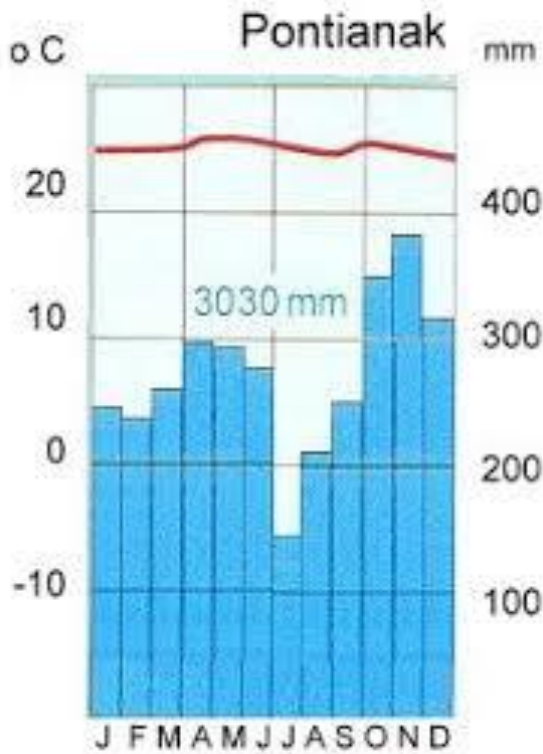
Pozimi so povprečne temperature – 15⁰ C, poleti okrog 25⁰ C, padavin je manj kot 250 mm.

Poleti so temperature med 28⁰ in 30⁰ C, več padavin je poleti in manj pozimi.

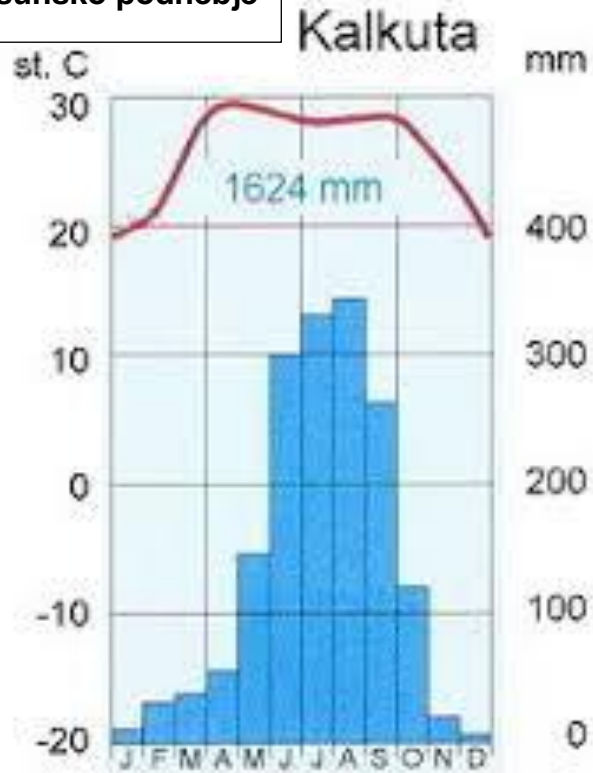
Temperature okrog 25⁰ C vse leto in veliko padavin vse leto.

Pozimi so temperature – 40⁰ C, poleti okrog 18⁰ C, manj kot 200 mm padavin.

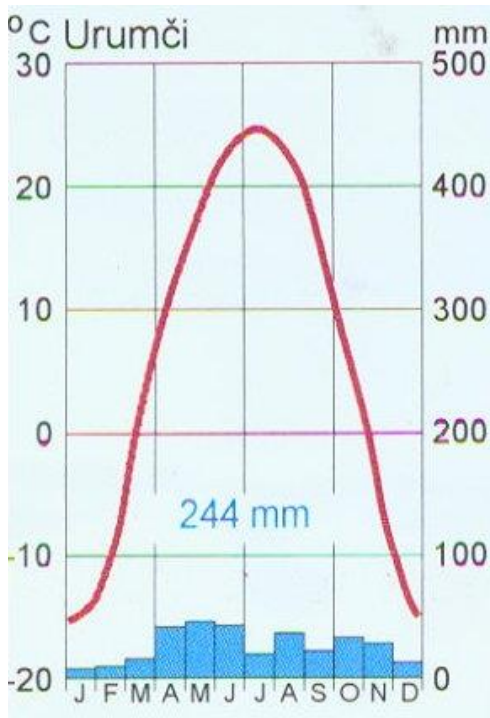
Ekvatorialno podnebje



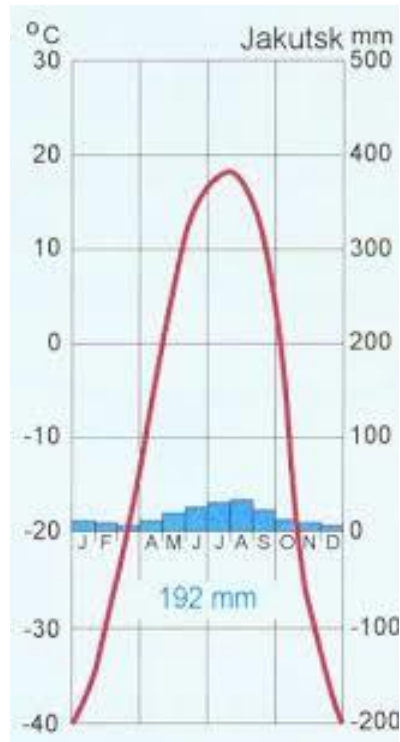
Monsunsko podnebje



Puščavsko podnebje



Zmerno hladno podnebje



Zaključek učenja:

Razmisli, kje v Aziji imajo podobno podnebje kot v Sloveniji?