

UTRJEVANJE ZNANJA

1. Opiši glavonožce (telo, prehranjevanje, barvila, dihanje, razmnoževanje)

2. Kateri organizem je na sliki? _____ Označi njene sestavne dele!



3. Kako se razmnožuje paramecij? Kam spada med praživali, v katero skupino?

5. Slika prikazuje: _____ (odnos z drevesom?)



a) Nariši skico glive in ob njej opiši **njene sestavne dele!**

b) Na sliki označi tisti del glive, ki ga imenujemo **goba!**

c) Zakaj glive ne uvrščamo med **rastline?**

d) Nariši shemo **glivne celice in opredeli njene de**

6. Katera je osnovna sistematska enota. Zapiši definicijo.

7. **Lišaj** je primer simbioze dveh skupin organizmov. Kateri dve skupini organizmov skupaj tvorita lišaj in kaj prispeva vsak od obeh partnerjev?

8. Katere dvoživke poznaš v Sloveniji? Zakaj so ogrožene? Navedi vsaj tri dejavnike!

9. Zakaj je močvirna sklednica ogrožena?

10. Dopolni povedi.

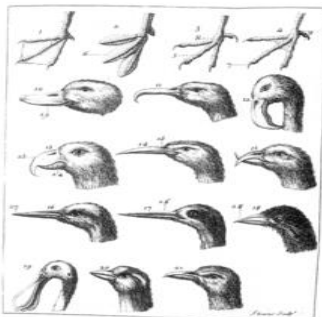
Med plazilce v Sloveniji štejemo poleg kač, še _____ in _____. Vsi imajo

_____ telesno temperaturo, dihajo s _____, koža je _____.

Poznamo tri vrste strupenih kač : _____, _____ in _____ (pri nas). Plazilci se razmnožujejo _____, jajca ležejo na _____.

Dvoživke ležejo jajca v _____. Dvoživke dihajo _____, plazilci pa _____.

11. Kaj prikazuje slika? Pojasni.



12. Opiši osnovne značilnosti ptic.

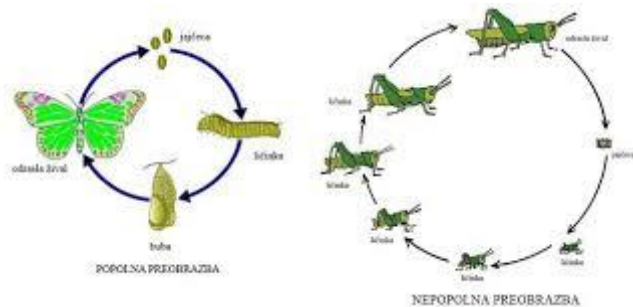
13. V preglednico zapiši razlike med ribami hrustančnicami in kostnicami.

HRUSTANČNICE	KOSTNICE


14. Kakšna je razlika med hormonskim sistemom in živčevjem?

15. Kakšne načina razmnoževanja poznaš? Zakaj je razmnoževanje pomembno za vrsto?

16. Kaj prikazuje slika? Opiši razliko.



17. Opiši zgradbo žuželke ob skici. Koliko je delov telesa?



18. Primerjaj oči pajka in žuželke, opiši razlike?

19. Katere pajkovce si spoznal?

20. kakšni so znaki borelie in in kakšni so simptomi meningitisa?

21. Ob pajku zapiši zgradbo. Napiši kako dihajo?



22. Katero čutilo je najbolj razvito pri pajkih?

23. Katere členonožce poleg pajkovcev še poznaš?

24. Kaj so osnovne značilnosti sesalcev?

