

**PREVERJANJE: AMERIKA - 8. a Ime in priimek: Datum: APRIL, 2020**

33 - 43 = 2

44 - 56 = 3

57 - 65 = 4

66 - 73 = 5

Točke: \_\_\_\_\_ Ocena: \_\_\_\_\_

**1. LEGA AMERIKE**

**a) Preberi spodnje trditve. Obkroži črko pred NAPAČNO trditvijo. Pomagaj si z zemljevidom.**

A - Amerika se na severozahodu z Beringovim prelivom približa Aziji.

B - Amerika v celoti leži na vzhodni, severni in južni poluti.

C – Velik del Južne in Srednje Amerike leži v vročem tropskem pasu.

D – Najobsežnejši del Angloamerike leži v zmerno toplem pasu.

E – Skrajni jug Južne Amerike sega v hladni polarni pas.

**1t/**

**b) V zemljevid vpiši:**

- imena obeh oceanov, ki oblivata Ameriko,
- z rdečo barvo označi mejo med Angloameriko in Latinsko Ameriko

**2t/**



Vir: [www.google.si/search?](http://www.google.si/search?) (povzet 16. 5. 2012)

**2. NARAVNE ZNAMENITOSTI SEVERNE AMERIKE**

**K zapisani naravni znamenitosti zapiši značilnosti!**

**2t/**

Yellowstone:

Dolina smrti:

**3. RELIEFNE ENOTE IN VODOVJA SEVERNE AMERIKE**

Na karti imaš s številkami označene zalive (1,2), morje (3), polotok (4), gorovji (5,6), reko (7), jezera (8), otok (9). Na črte k zapisanim številkam zapiši ustrezna geografska imena.



3t/

Vir: Sodobni svet, Geografija za 8. razred, delovni zvezek.

**b) Primerjaj Severnoameriške Kordiljere in Apalače. Zapiši dve razliki! 1t/**

**c) Dopolni manjkajoče dele povedi, ki označujejo značilnosti Kanadskega ščita. 3t/**

Kanadski ščit ima kamnine, zato so tu zaloge rud:

Površje je precej uravnano in preoblikovano. Zaradi mrzlega podnebja

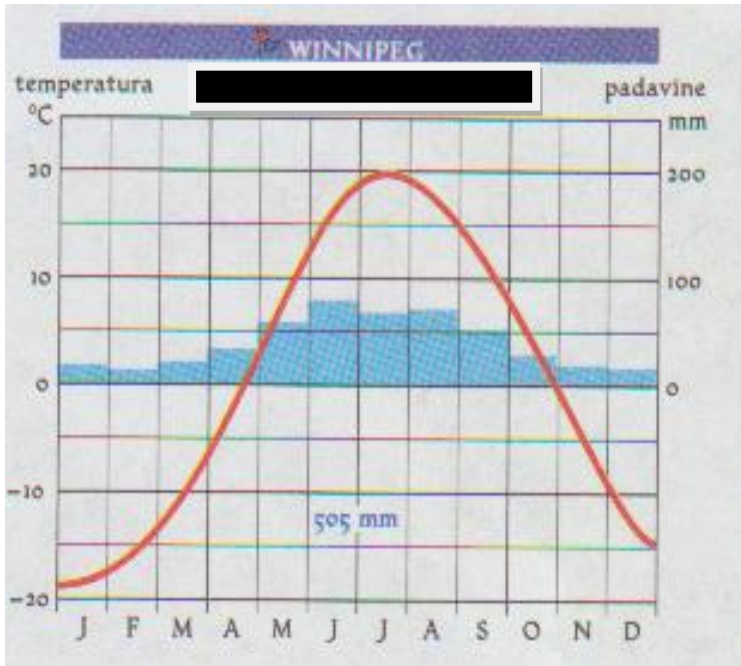
tukaj raste tajga – .

**4. PODNEBJE IN RASTLINSTVO SEVERNE AMERIKE**

**a) Poveži tip rastlinstva s tipom podnebja in pokrajino! 5t**

PRERIJA	zmerno hladno podnebje	KALIFORNIJA
TUNDRA	etezijsko – sredozemsko podnebje	OBALNO GOROVJE
TAJGA	oceansko podnebje	ALJASKA
MAKIJA	celinsko podnebje	KANADA
SEKVOJE	subpolarno podnebje	OSREDNJE NIŽAVJE

**b) S pomočjo klimograma opiši značilnosti podnebja in zapiši kateri tip podnebja prikazuje. 3t**



Tip podnebja:  
Opis:

Vir: učbenik za 8. razred, Rokus.

- c) V Osrednjem nižavju Amerike so pogosti tornadi. Razloži zakaj in kako se pojavljajo tornadi?  
d) Odgovori na vprašanja!

2t/  
3t/

Kateri naravni dejavnik vpliva na višje temperature ob Mehiškem zalivu?  
Zakaj imajo obale Labradorskega polotoka hladnejše podnebje kot obale Evrope v isti geografski legi?

Zakaj imenujemo 100. poldnevnik mrtva črta?

## 5. PREBIVALSTVO AMERIKE

- a) Na črte k pojmom na levi pripiši ustrezno črko.

2t/

MULATI	A - mešanci med belci in Indijanci
MESTICI	B - mešanci med črnci in Indijanci
ZAMBI	C - Eskimi na severu
BURI	D - mešanci med belci in črnci
INUITI	

- b) Med spodaj zapisanimi trditvami obkroži črko pred posledico rasizma v S. Ameriki.

- A – delež belega prebivalstva je večji od deleža črnega prebivalstva  
B – delež revnih je med črnci in priseljenci iz Latinske Amerike večji kot med belci  
C – delež bogatih je med belci manjši kot med črnci  
D – stopnja izobrazbe črncev in belcev je enaka  
E – delež nezaposlenih hitreje narašča med belci kot med črnci

1t/

- c) Preberi spodnje trditve in obkroži črko pred pravilnim odgovorom.  
Zakaj prebivalstvo v mestih Srednje Amerike hitro narašča?

1t/

- A – zaradi priseljevanja iz ZDA in Kanade
- B – zaradi visokega naravnega prirastka
- C – zaradi priseljevanja iz podeželja v mesto

## 5. GOSPODARSTVO ZDA IN KANADE

a) Kateri naravni dejavniki pripomorejo k gospodarski razvitosti ZDA? 2t

b) ZDA in Kanada imata razvito intenzivno kmetijstvo. Zapiši značilnosti in posledice v spodnjo tabelo.

intenzivno kmetijstvo	Značilnosti <span style="float: right;">2t</span>	Posledice <span style="float: right;">2t</span>
ZDA IN KANADA	-	-

c) K zapisanim dejstvom pripiši argument s katerim dokažeš – podkrepíš trditev. 3t

ZDA je država s postindustrijsko družbo.

Vodna pot po reki in prekopu Sv. Lovrenca ter Velikih jezerih je zelo pomembna.

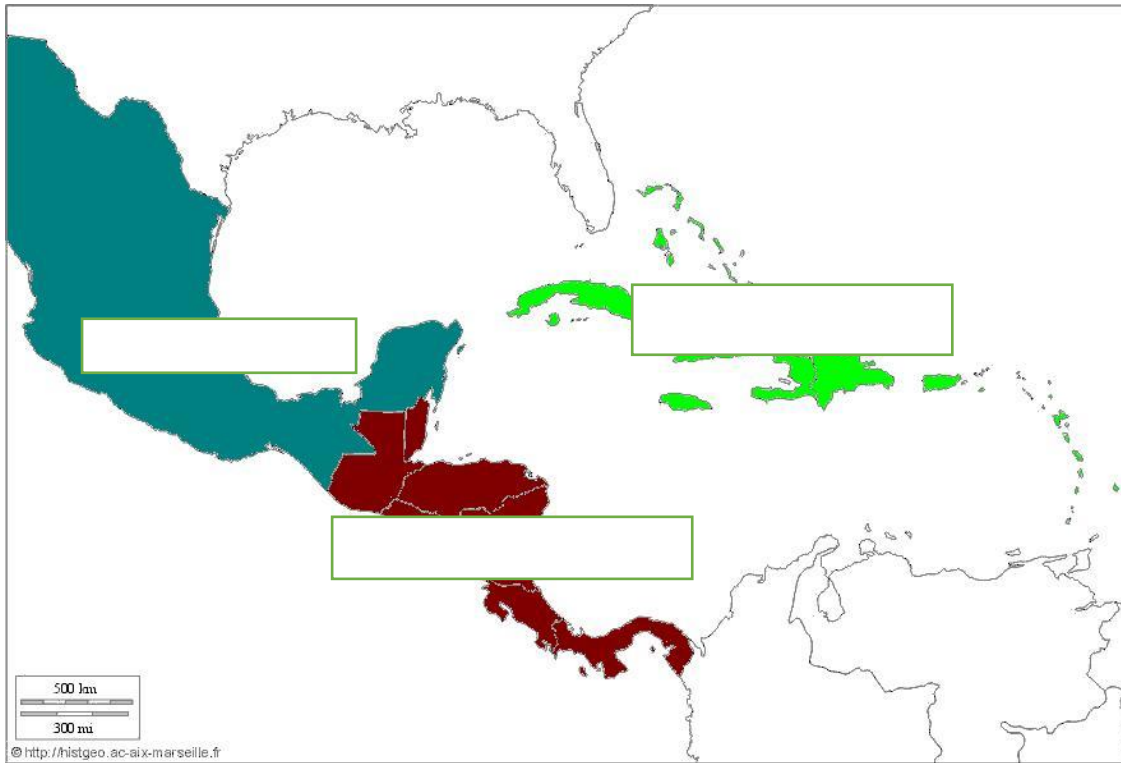
Kanada ima veliko naravnih virov za gospodarski razvoj.

## 6. SREDNJA AMERIKA

a) Srednjo Ameriko delimo na tri naravne enote. Vpiši jih na ustrezna mesta na zemljevidu. 2t/

b) S katerimi problemi se ubadajo države Srednje Amerike? Obkroži 2 **NEustrezna** odgovora. 2t/

- a) brezposelnost
- b) veliko starega in malo mladega prebivalstva
- c) naravne katastrofe
- f) širitev barakastih naselij
- d) nizka stopnja izobrazbe
- e) odseljevanje iz mesta na podeželje



Vir: <http://www2.arnes.si/~mmatko18/svet/sramerika.html>, ( 18. 5. 2012)

c) Ovrednoti pomen Panamskega prekopa!

**1t/**

d) S katerim prekopom na svetu lahko primerjamo pomen Panamskega prekopa? **1t/**

## 7. GEOGRAFSKA LEGA IN POVRŠJE JUŽNE AMERIKE

a) Na zemljevid z rdečo barvo vriši ekvator in južni povratnik.

**1t/**

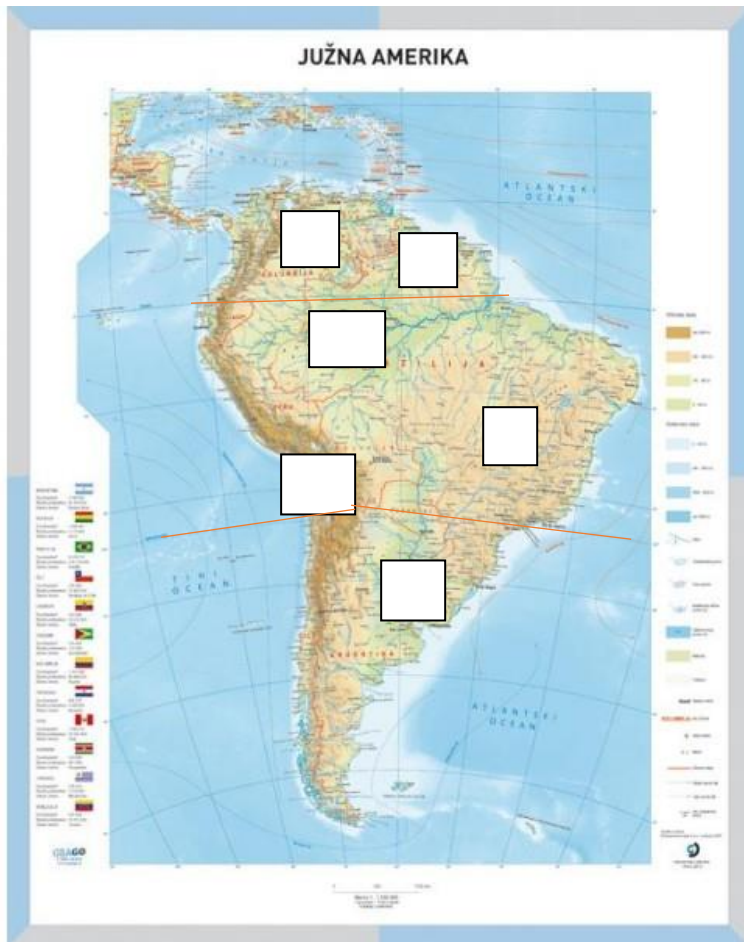
b) V katerem toplotnem pasu leži večji del Južne Amerike?

**1t/**

c) V zemljevid v okvirčke vpiši ustrezne številke naravnih enot:

1-Andi, 2-Brazilsko višavje, 3-Gvajansko višavje, 4-Laplatsko nižavje, 5-Orinoško nižavje, **3t/**

6-Amazonsko nižavje



Vir: [https://www.google.com/search?q=Ju%C5%BEna+amerika&rlz\(1.4.2020\)](https://www.google.com/search?q=Ju%C5%BEna+amerika&rlz(1.4.2020))

**d) Dopolni manjkajoče dele povedi.**

**3t/**

Najvišja gora je \_\_\_\_\_ njena nadmorska višina \_\_\_\_\_

Najvišje ležeče jezero je \_\_\_\_\_

Planota med dvema grebenoma Andov je \_\_\_\_\_

Največja puščava je \_\_\_\_\_

Največji otok na jugu je \_\_\_\_\_

**8. PODNEBJE JUŽNE AMERIKE**

Opazuj spodnja klimograma. Ustrezno izpolni tabelo pod njima.

**2t/**

a) Izbiraj med naslednjimi tip podnebja:

podnebje, gorsko podnebje, oceansko podnebje.

b) Izbiraj med naslednjimi tipi rastlinstva:

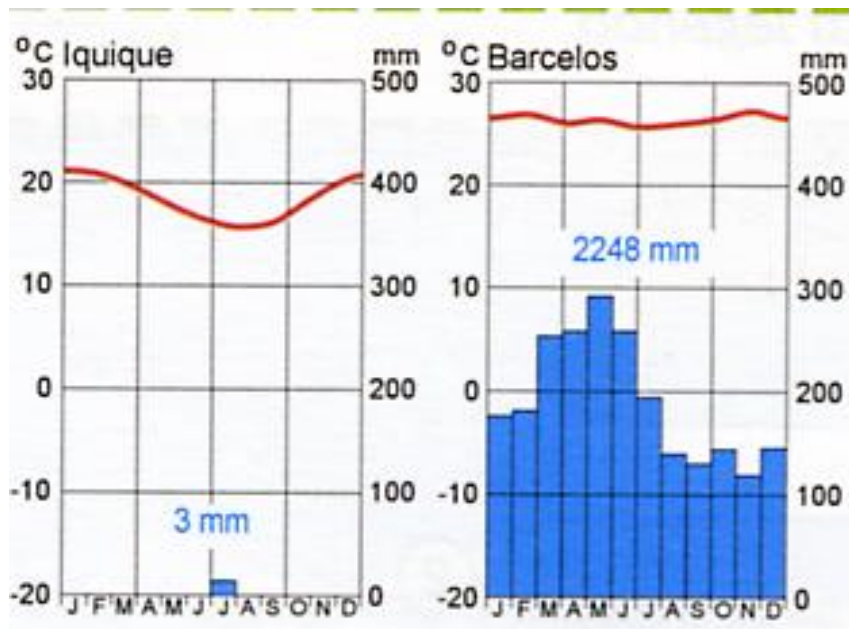
makija, tropski deževni gozd, pampa, savana, grmičevje in šopi trav, mangrove

c) Pojasni, zakaj je vse leto veliko padavin v kraju Barcelos?

**1t/**

d) Pojasni, zakaj so v Iquique suše?

**1t/**



Kraj	Iquique	Barcelos
Tip podnebja		
Tip rastja		

### 9. NARAVNE IN DRUŽBENE ZNAČILNOSTI JUŽNE AMERIKE

Preberi spodnje trditve. Obkroži številke pred tremi pravilnimi trditvami.

3t/

- 1 – Mladonagubano gorovje Andi so potresno in vulkansko območje.
- 2 – Pokrajina Patagonija je živinorejsko območje v Argentini.
- 3 – Brazilsko višavje je staro gorstvo bogato z rudami.
- 4 – Gorato površje v severnih in osrednjih Andih je v višinah okrog 3000 m povsem neposeljeno.
- 5 – Staroselci – potomci Inkov se preživljajo s plantažnim kmetijstvom.
- 6 – Amazonsko nižavje je pomembno po gojenju tobaka in bombaža.
- 7 – Brazilija je velika izvoznica krompirja.

### 10. KMETIJSTVO LATINSKE AMERIKE

Opazuj spodnji diagram in odgovori na vprašanja!

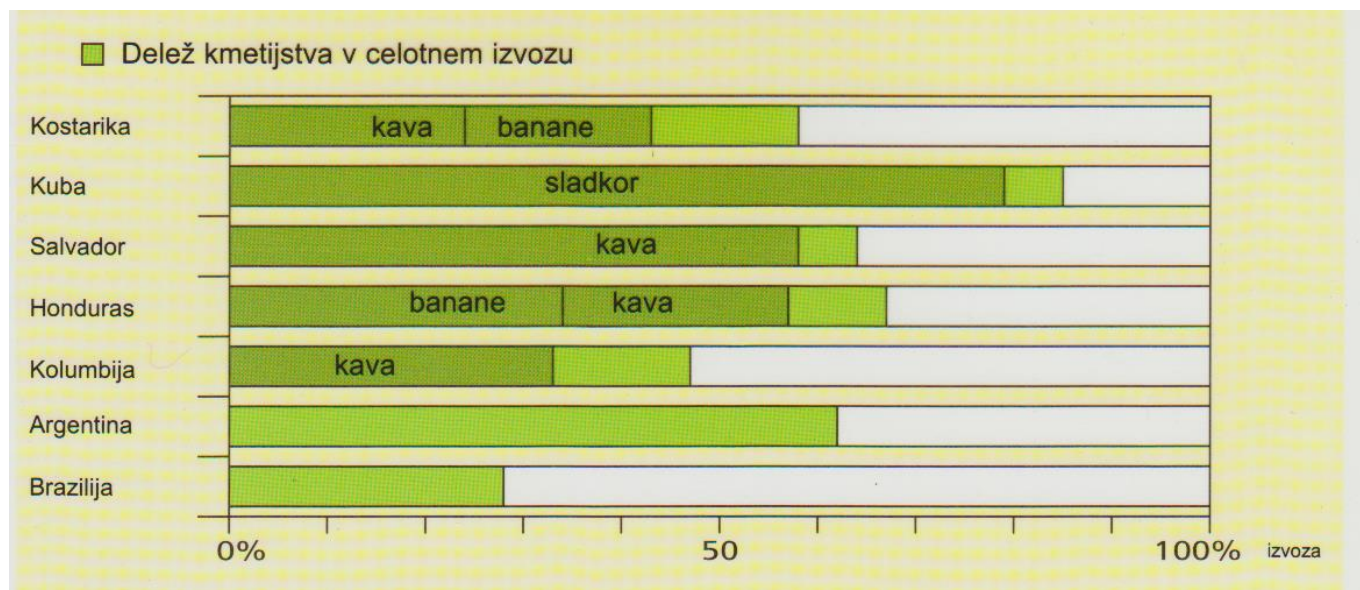
4t/

- a) V kateri državi je delež kmetijstva v celotnem izvozu največji?
- b) V kateri državi je delež izvoza kave največji?
- c) Kolikšen delež izvoza predstavljajo banane v Hondurasu?

b) V kateri državi je delež izvoza sladkornega trsa največji?

d) Kaj ti pove podatek, da je v Braziliji delež kmetijstva za izvoz 28 %?

Kater druge gospodarske dejavnosti so v izvozu za Brazilijo še pomembne?



Vir: Pomanjkljivost monokultur, Geografska enciklopedija, Amerika, založba Učila.

Vir: delovni zvezek za 8. razred, Modrijan.

## 11. POSELITEV JUŽNE AMERIKE

a) Južna Amerika je neenakomerno poseljena.

2t

Zapiši vzrok za gosto poselitev Laplatskega nižavja:

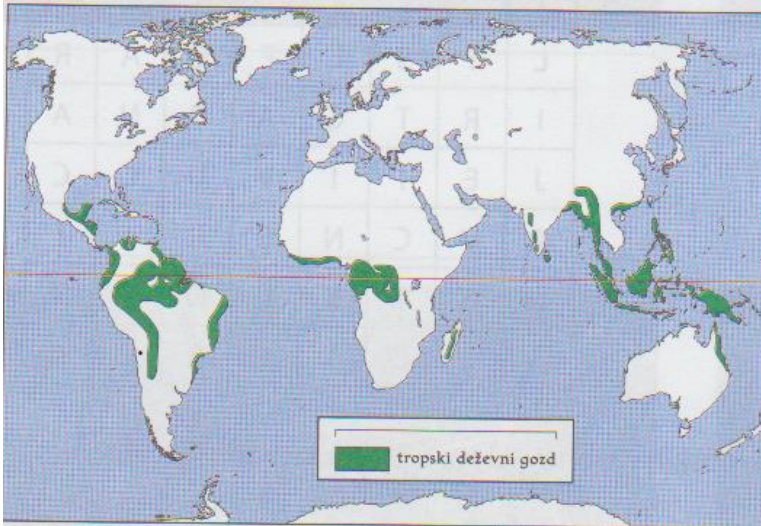
Zapiši vzrok za redko poselitev Amazonskega nižavja:

b) Zakaj je področje visoke planote Altiplano poseljeno z največjim deležem staroselcev – potomcev Inkov?

1t

## 7. TROPSKI DEŽEVNI GOZD JE NAŠ SKUPEN ZAKLAD





Vir: delovni zvezek za 8. razred, Rokus.

a) Imenuj tri pokrajine na svetu, kjer so razširjeni tropski deževni gozdovi! 3t/

b) Zapiši dva vzroka za vse večje krčenje tropskega gozda!

2t

c) Zapiši eno lokalno in eno globalno posledico krčenja tropskega gozda.

2t