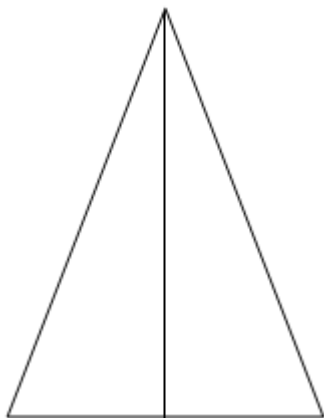


Pitagorov izrek v ENAKOKRAKEM TRIKOTNIKU

1. Označi in opiši enakokraki trikotnik



Stranica c je _____ trikotnika, stranici a in b sta enako dolgi in sta _____ trikotnika.

Višina na stranico c (v_c) razpolavlja stranico _____.

Kota ob osnovnici sta _____ velika.

Obseg:

Ploščina:

Z barvo označi pravokotni trikotnik in zapiši **Pitagorov izrek**.



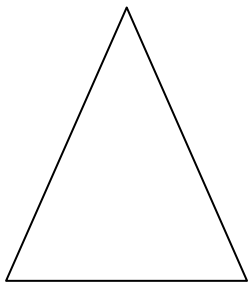
2. Primeri

a) Enakokraki trikotnik

$$c = 8 \text{ cm}$$

$$v_c = 3 \text{ cm}$$

$$o =$$

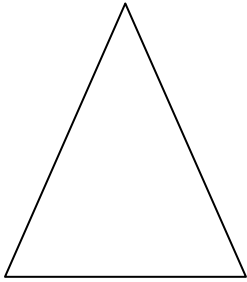


b) Enakokraki trikotnik

$$c = 10 \text{ cm}$$

$$o = 36 \text{ cm}$$

$$p =$$

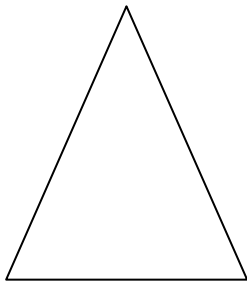


c) Enakokraki trikotnik

$$p = 48 \text{ cm}^2$$

$$v_c = 6 \text{ cm}$$

$$o =$$



d) Enakokraki trikotnik

$$a = 10 \text{ cm}$$

$$v_c = 3 \text{ cm}$$

$$o =$$

